



Rhône

Morancé



Très difficile



Très facile

2 h 15



4,5 km

Parking à Trédo

Situé aux portes du Lyonnais et du Beaujolais des Pierres dorées, le village de Morancé s'étale entre la vallée de l'Azergues à l'est et les coteaux viticoles à l'ouest. À cause de sa position stratégique, son territoire actuel était jadis partagé entre plusieurs puissances – le monastère Saint-Pierre de Lyon, les seigneuries du Pin, de Trédo-Beaulieu, de l'Isérable... Les vestiges des maisons fortes du Pin et de l'Isérable qui en furent les sièges évoquent ce passé agité.

Mais la commune est particulièrement fière de son petit patrimoine qui rythme la promenade à travers les vignes. Les maisons vigneronnes en pierres dorées, le lavoir de Marzé, la source de Fontjards, les croix de chemin, les murets, les puits « Sarrasins » nous dévoilent l'histoire du peuple qui a travaillé ces terres et modelé ces paysages.



Chapelle de Beaulieu

La chapelle de Beaulieu, construite dans les années 1830, est sans doute une des premières chapelles de style néogothique dans le département du Rhône. Elle fut édifiée pour abriter les sépultures de la famille de Chaponay, et porte leurs armoiries et leurs emblèmes. Aujourd'hui, elle nécessite une intervention d'urgence, afin d'être restaurée et ouverte au public.

On peut apercevoir cette chapelle au cours de la balade, peu après le point d'indice n° 1.

Église de Morancé

L'église de Morancé est inscrite en tant que monument historique depuis 1926 en raison de son abside romane. Agrandie et embellie à plusieurs reprises au fil des siècles, elle est remarquable pour ses chapiteaux sculptés datant du XII^e siècle, et ses vitraux, œuvre du maître verrier lyonnais Augustin Thiéry.

Retrouvez encore
plus de balades
partout en France sur
www.randoland.fr



randoland.fr



Road-book

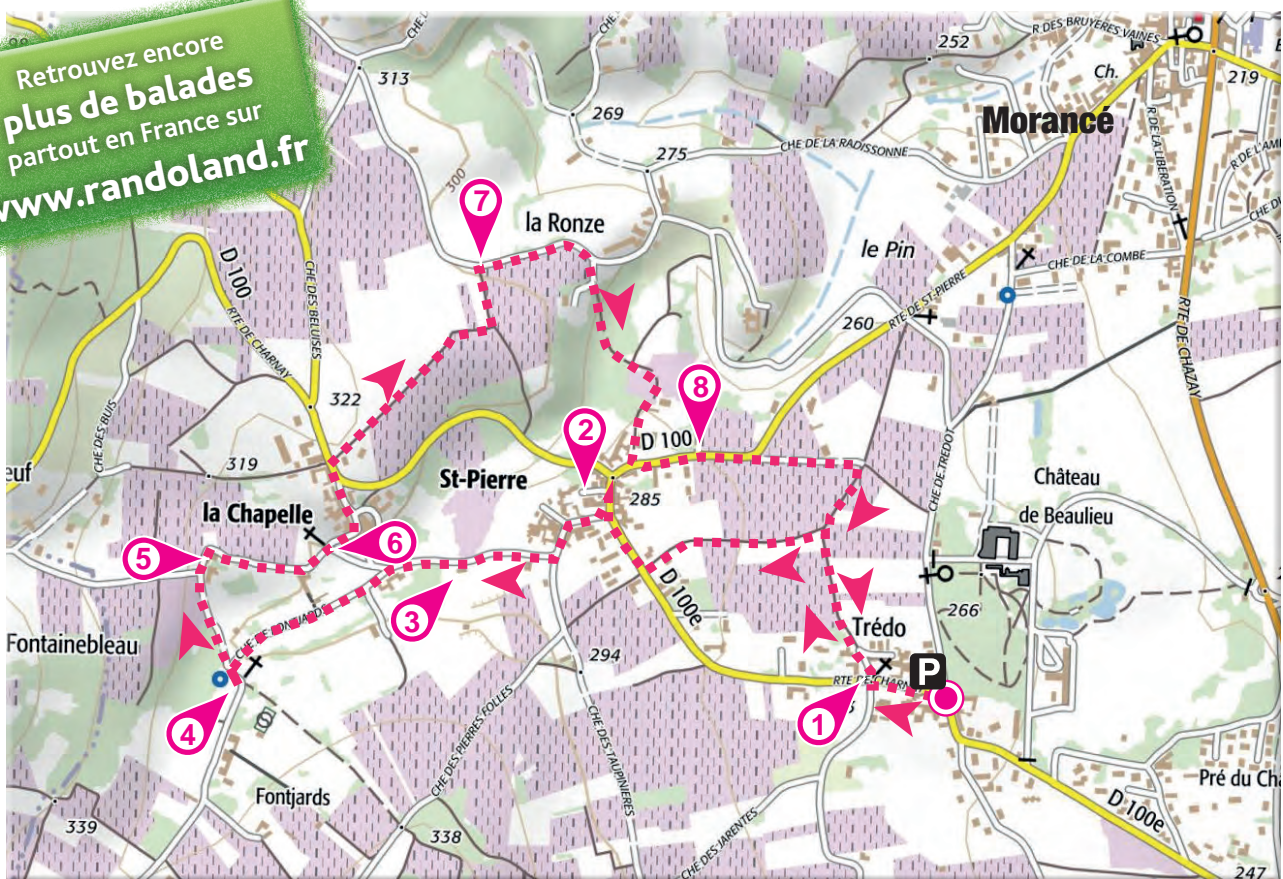
La balade s'effectue sous l'entière responsabilité des utilisateurs. Surveillez les enfants notamment sur les passages routiers. Merci de respecter la nature et l'environnement ainsi que les propriétés privées.

Le circuit débute sur le parking situé dans le hameau de Trédo. Débuter en prenant la direction Charnay. Après la croix, prendre l'allée de la Croix et s'arrêter devant le portail de la maison n° 2 ①. Continuer sur ce chemin puis, au milieu des vignes tourner à gauche au niveau du poteau de balisage du circuit n° 12. Arriver à la route. Tourner à droite et continuer jusqu'à l'impasse de l'Auberge. S'avancer dans l'impasse pour remarquer l'inscription sur la façade de la maison n° 2 ②. Revenir sur ses pas pour prendre à droite le Chemin de Fontjards. S'arrêter devant le lavoir en bordure de route à gauche ③. Continuer sur le Chemin de Fontjards jusqu'au petit bassin au fond à droite ④ (7/9 ans et + 10 ans) et la croix à gauche ④ (4/6

ans). Prendre ensuite à droite quand on regarde la source, entre les grosses pierres, le chemin qui monte en direction du hameau de La Chapelle. Passer devant la maison du n° 250 et de suite après le virage à droite, remarquer, sur cette façade, les deux pierres percées de meurtrières ⑤. Continuer jusqu'au croisement suivant et remarquer la croix en bordure de route à gauche ⑥. Poursuivre tout droit sur la route qui monte entre les maisons. Arriver jusqu'à la route départementale 100. Continuer sur quelques mètres puis tourner à droite sur le chemin (direction Morancé). À l'intersection, prendre à gauche. Ce sentier débouche ensuite sur une petite route. Remarquer le gros arbre à cette intersection ⑦. Prendre à droite. Au niveau du panneau d'entrée de Morancé, au lieu-dit La Ronze, suivre l'impasse à droite (direction Morancé). Le sentier passe sous les buis puis, plus loin, débouche sur la route départementale. La prendre à gauche et s'arrêter en sortie de hameau, à la hauteur du numéro 1020, pour profiter du point de vue sur le château du Pin ⑧. Continuer sur une centaine de mètres sur cette route principale puis prendre le chemin en face qui longe les vignes. Tourner ensuite à droite, au niveau du poteau de balisage des circuits 12, 15 et 17. À la patte d'oie, prendre à gauche puis arriver sur la route. Prendre à gauche. Retour au parking.

Prendre à droite. Au niveau du panneau d'entrée de Morancé, au lieu-dit La Ronze, suivre l'impasse à droite (direction Morancé). Le sentier passe sous les buis puis, plus loin, débouche sur la route départementale. La prendre à gauche et s'arrêter en sortie de hameau, à la hauteur du numéro 1020, pour profiter du point de vue sur le château du Pin ⑧. Continuer sur une centaine de mètres sur cette route principale puis prendre le chemin en face qui longe les vignes. Tourner ensuite à droite, au niveau du poteau de balisage des circuits 12, 15 et 17. À la patte d'oie, prendre à gauche puis arriver sur la route. Prendre à gauche. Retour au parking.

Retrouvez encore plus de balades partout en France sur www.randoland.fr





L'inspecteur Rando souhaite se rendre au plus près de la sorcière. Mais par où va-t-il passer ?

Trace le chemin le plus court emprunté par l'inspecteur Rando en utilisant les informations de la page suivante. Attention, il est interdit d'emprunter deux fois la même échelle. Chaque fois que l'inspecteur Rando empruntera une échelle rouge, colorie, dans l'ordre, les chapeaux de sorcière de la frise en bas de page. En fin de parcours, note dans la case réponse le nombre de chapeaux coloriés.

4/6
ans



© randoland 2015. Illustrations : Armelle Drouin.

Tu peux te rendre à l'Office de Tourisme ou sur le site www.randoland.fr pour vérifier ta réponse (code énigme 6914001P)

1	2	3	4	5	6	7	8	9	10	

Ta réponse



1 Le linteau de la maison n° 2

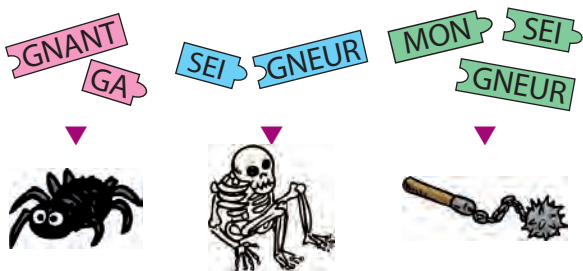
Quel animal est représenté sur la plaque métallique fixée sur le linteau en bois ?

Tu vas découvrir la première étape de l'Inspecteur Rando.



2 L'impasse de l'Auberge

Quelles étiquettes te permettent de reconstituer le premier mot de cette inscription ?




3 Le lavoir

Quelle est la photo de ce lavoir ?



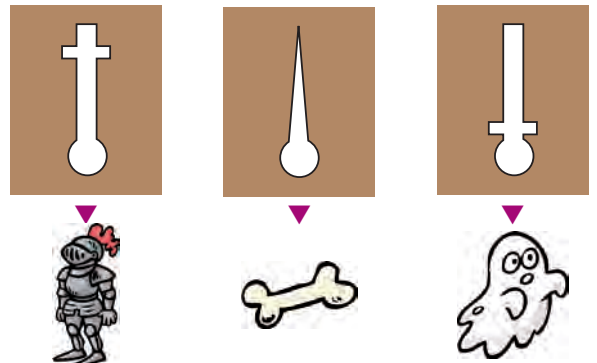
4 La croix

Quel dessin représente le motif gravé au dos de la croix ?



5 La façade de la maison

Quel dessin est représenté sur les meutrières sur cette façade ?



6 La croix


Quel nuage de chiffres te permet de reconstituer une des deux dates inscrites sur la croix ?



7 Le gros arbre

Quelles sont les feuilles de ce gros arbre ?

N'hésite pas à regarder au sol si elles sont toutes tombées !



8 Le point de vue sur le château

Quelle photo a été prise de l'endroit où tu te trouves ?



ÉNIGME

Pour le spectacle de fin d'année, les élèves de l'école primaire de Morancé ont choisi de jouer une pièce de théâtre racontant la légende de la création du village de Morancé.

En effet, il semblerait que le village aurait été créé par une colonie Sarrasine qui, au début du VII^e siècle, se serait réfugiée dans les bois alentours pour échapper à Charles Martel

Les rôles ont été difficiles à répartir car nombreux étaient les garçons qui souhaitaient incarner le chef du clan des Sarrasins.

Il fallut procéder à un tirage au sort pour savoir qui tiendrait ce rôle.

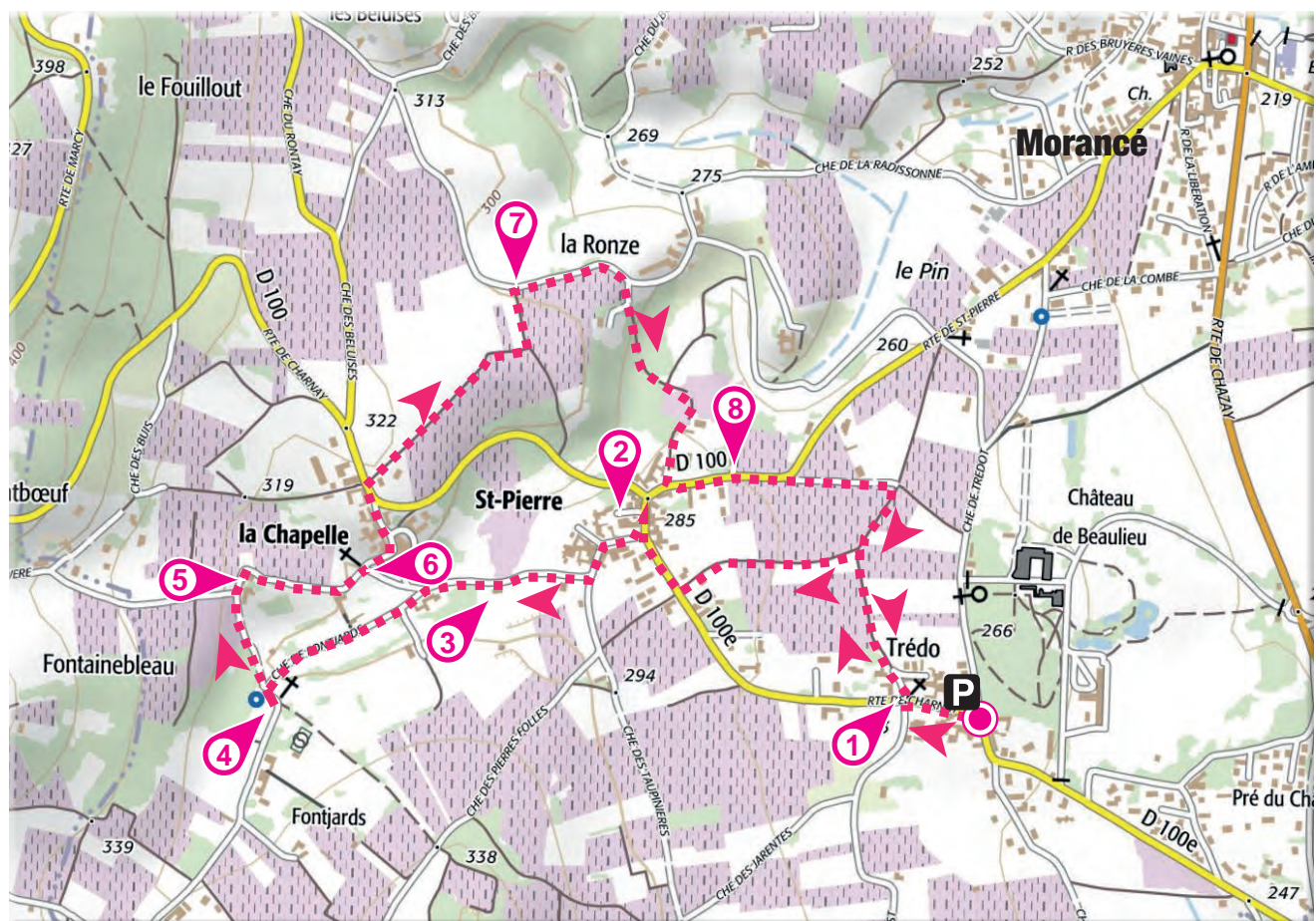
Sauras-tu retrouver le prénom de l'élève choisi ?



Tu disposes du plan ci-dessous.

À l'emplacement des points rouges, lis les indications qui te permettront de résoudre l'énigme principale.

À la fin de ta balade, rends-toi à l'Office de tourisme ou visite le site www.randoland.fr pour vérifier ta réponse.





Pour toutes les activités de cette fiche, reporte dans la grille de bas de page les réponses trouvées en face des nombres correspondants.

1 Le linteau de la maison n° 2

Reporte dans la grille les deux lettres qui entourent la date gravée sur ce linteau en bois. Mais attention, inscris-les dans l'ordre alphabétique.

2 L'impasse de l'Auberge

Pour cet indice les voyelles valent + 2 et les consonnes + 3.

Ex. : FRANCE → 3 + 3 + 2 + 3 + 3 + 2 = SEIZE

Calcule la valeur du premier mot de cette inscription et note ta réponse, en lettres dans la grille.

3 Le lavoir

PAUL : La longueur du lavoir rempli d'eau est d'environ 12 décamètres (12 dam).

LENA : Je pense plutôt que cette longueur est à peu près de 120 centimètres (120 cm).


IRIS : Moi, il me semble que cette longueur est d'environ 120 décimètres (120 dm).

Reporte dans la grille le prénom de l'enfant qui ne se trompe pas.

4 La source

Si tu élimines le premier et le dernier chiffre de la date inscrite sur la source, dans quel wagon peux-tu inscrire logiquement le nombre que tu viens de trouver.

Reporte ensuite dans la grille le prénom figurant sur ce train.



5 La façade de la maison

Pour dessiner la forme des ouvertures sur les deux pierres caractéristiques de cette façade,

trois enfants imaginent les instruments dont ils auraient besoin, en plus de leur crayon.

JOSÉ : Il me faut une règle et une équerre.

MAHÉ : Moi, j'ai besoin d'une règle, d'une équerre, et d'un compas.

NINA : Pour moi, une équerre me suffira.

Note dans la grille le prénom de l'enfant qui a énuméré les bons instruments.

6 La croix

Charlie, Corinne et Cécilia ont remarqué que, sur l'inscription écrite en latin, on retrouvait toutes les lettres du prénom de l'un d'eux.

Note ce prénom dans la grille.

7 Le gros arbre

Écris dans la grille le nom de ce gros arbre.



Feuille de frêne Feuille de chêne Feuille de hêtre

8 Le point de vue sur le château

Une seule photo a été prise de l'emplacement où tu te trouves. Inscris dans la grille le nom du mois où elle a été réalisé.



7/08



7/06



15/07

Grille réponse

Circuit n° 6914001M

1	>									
2	>									
3	>									
4	>									
5	>									
6	>									
7	>									
8	>									

Reporte ci-dessous, en les mettant en ordre, les caractères des cases colorées de la grille réponse pour retrouver le prénom recherché.

Ta réponse:



ÉNIGME

À la Révolution française, de nombreuses riches familles habitaient Morancé et ses alentours, les uns possédant châteaux, dépendances et terres agricoles, les autres détenant manoirs et riches propriétés.

Leur histoire est évidemment liée à celle de la grande ville toute proche, Lyon.

C'est ainsi qu'au moment de la Révolution française l'un de ces propriétaires habitant Morancé a été nommé, le premier, maire de la municipalité de Lyon.

Mais quel était donc le nom du 1^{er} maire de Lyon (du 12 avril au 23 décembre 1790) qui résidait à Morancé.

+10 ans



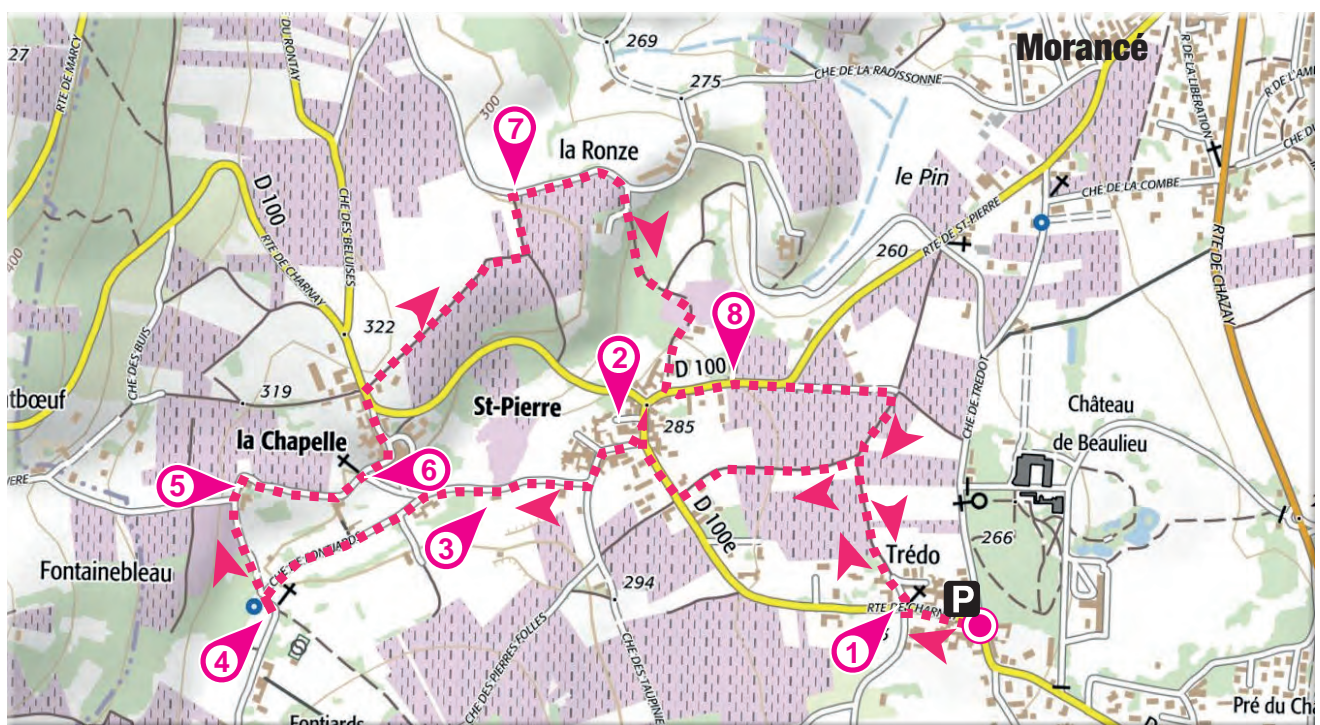
LES PERSONNAGES CÉLÈBRES

- ▶ **Alphonse-Laurent-Antoine Salamon**, né le 16 juin 1747 à Montélimar et mort en 1815 à Grenoble.
- ▶ **Antoine Nivière-Chol**, né le 14 septembre 1744 à Lyon et mort en 1817 à Virieu-le-Grand.
- ▶ **Antoine Rustand**, né le 16 mai 1750 à Morancé et mort en 1803 à Lyon.
- ▶ **Antoine-Marie Bertrand**, né le 18 mai 1754 à Lyon et mort à Paris en 1796.
- ▶ **Fleuri-Zacharie-Simon Palerne de Savy**, né à Lyon le 5 novembre 1733 et mort en 1835 à Bourg-Argental.
- ▶ **Jean-Emmanuel Gilibert**, né le 21 juin 1741 à Lyon et mort en 1814 à Lyon.
- ▶ **Jean-Jacques Coindre**, né le 9 août 1748 à Lyon et mort en 1793 à Lyon.
- ▶ **Louis Vitet**, né le 3 août 1736 à Lyon et mort en 1809 à Paris.
- ▶ **Pierre-Elizabeth de Chaponay**, né le 26 janvier 1731 à Ainay et mort en 1793 à Lyon.

Tu disposes du plan ci-dessous.

À l'emplacement des points rouges, lis les indications qui te permettront de résoudre l'énigme principale.

À la fin de ta balade, rends-toi à l'Office de tourisme ou visite le site www.randoland.fr pour vérifier ta réponse.





Lors du passage devant chacun des indices lis attentivement les indications fournies. Elles te permettront, au fil de la balade, de résoudre l'énigme principale.

1 Le linteau de la maison n° 2

Le personnage né 80 ans avant la date gravée sur ce linteau a été le 5^e puis le 7^e maire de Lyon, mais pas le 1^{er} !

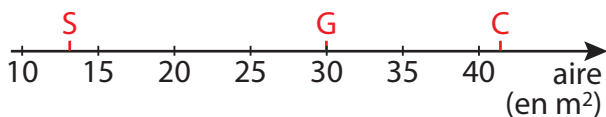
2 L'impasse de l'Auberge

Le signataire de l'inscription avait le même prénom que le second maire de Lyon.

3 Le lavoir

Suzy, Colin et Gaël ont calculé l'aire approximative, en mètres carrés, de la surface du bassin du lavoir.

Ils ont chacun écrit l'initiale de leur prénom sur une droite graduée à l'emplacement de leur réponse. Mais un seul l'a placée correctement.



Cette lettre est l'initiale du nom du 4^e maire de Lyon mais pas du premier !

4 La source

Si tu ajoutes tous les chiffres qui composent l'année inscrite sur la source tu vas trouver le jour de naissance du 8^e maire de Lyon, mais pas celui du premier.

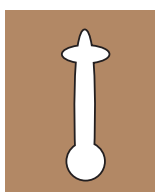
5 La façade de la maison

Un passionné d'architecture a remarqué que les pierres de la façade étaient quasiment identiques à celles d'un monument qu'il avait visité.

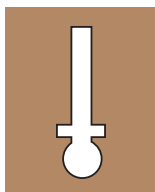
La ville où se trouve cet édifice est également la ville de décès d'un personnage illustre de Morancé. Mais ce dernier n'a jamais été maire de Lyon.



Maison du
Chamarier
à Lyon



Manoir de
Virieu le Grand



Maison du
Châtelet
à Bourg-Argental

Ce personnage a été condamné à mort et guillotiné « convaincu d'avoir donné des sommes considérables et favorisé les projets des contre-révolutionnaires, excité le peuple à la révolte et d'avoir dit en parlant des femmes des patriotes, qu'il fallait les nourrir avec de la mitraille ».

6 La croix

Cherche bien les deux dates inscrites sur cette croix et calcule leur différence.

Un personnage a vécu 1 an de plus que le résultat que tu viens de trouver, mais il n'a été que le 6^e maire de Lyon et a fini, lui aussi, guillotiné !

7 Le gros arbre

En t'aidant des indices ci-dessous, retrouve le nom du fruit de ce gros arbre. Il rime avec le nom d'un personnage célèbre de Morancé mais qui n'a jamais été maire de Lyon.



Noix,
fruit du noyer



Noisette,
fruit du noisetier



Gland,
fruit du chêne

8 Le point de vue sur le château

Une seule photo a été prise à cet emplacement. Elle a été effectuée au cours de la même saison qui a vu naître le 3^e maire de Lyon mais pas le premier.



18 juin



7 juillet



24 septembre

Aide

Saisons :

Automne → 23/09 au 20/12

Hiver → 21/12 au 19/03

Printemps → 20/03 au 20/06

Été → 21/06 au 22/09

Circuit n° 6914001G

Tu devrais avoir retrouvé le nom du premier maire de Lyon.

Ta réponse: